


















# LINK DEL POLLET

PRÀCTICA 1		Resposta
1	Quants costats té? <input type="text"/>	costats
2	Quanti val tot?  1€ +  1€ +  1€	€
3	Quin és el més gran? 8, 9, 12, 14	
4	Quin ve? 3, 5, 7, .....	
5	Quanti valen 2 pomes?  2€	€

PRÀCTICA 2		Resposta
1	Saps quin és el cub?  a)  b)  c)	
2	Suma 10 + 2	
3	Quants en falten per tenir-ne 10? 	
4	Tots marquen en punt, però quin marca les 9 en punt?  a)  b)  c)	
5	Ajunta 5 i 3	



# LINK DEL POLLET

PRÀCTICA 1		Resposta
1	Quin falta? 12, 13, 14, ....., 16, 17	
2	Ajunta 3 caramels, 5 caramels i 2 caramels	caramels
3		cubs
4	Quan fan 2 pollets i 8 pollets?	pollets
5	Quin val més?  13 € a)  18€ b)  17 € c)	

PRÀCTICA 2		Resposta
1	Saltem de 3 en 3 	
2	Quin va abans del 17?	
3	Escriu el 3 en lletres	
4	Escriu el 4 en lletres	
5	Quina hora és? 	Les .... en punt

Quantes desenes hi ha?



Desenes	unitats



Desenes	unitats



Desenes	unitats



# COMPROVA SI HO HAS FET BÉ!



## LINK DEL POLLET

PRÀCTICA 1		Resposta
1	Quants costats té? <input type="text"/>	4 costats
2	Quant val tot? 🍏 1€ + 🍏 1€ + 🍏 1€	3 €
3	Quin és el més gran? 8, 9, 12, 14	14
4	Quin ve? 3, 5, 7, ...	9
5	Quant valen 2 pomes? 🍏 2€	4 €

PRÀCTICA 2		Resposta
1	Saps quin és el cub? a)  b)  c)	c)
2	Suma 10 + 2	12
3	Quants en falten per tenir-ne 10? 	6
4	Tots marquen en punt, però quin marca les 9 en punt? 	b)
5	Ajunta 5 i 3	8




## LINK DEL POLLET


PRÀCTICA 1		Resposta
1	Quin falta? 12, 13, 14, ..., 16, 17	15
2	Ajunta 3 caramels, 5 caramels i 2 caramels	10 caramels
3	+	5 cubs
4	Quan fan 2 pollets i 8 pollets?	10 pollets
5	Quin val més? 🍷 13 € a) 🍷 18 € b) 🍷 17 € c)	b)

PRÀCTICA 2		Resposta
1	Saltem de 3 en 3 	17
2	Quin va abans del 17?	16
3	Escriu el 3 en lletres	tres
4	Escriu el 4 en lletres	quatre
5	Quina hora és? 	Les 5 en punt


Quantes desenes hi ha?



Desenes	unitats
1	4



Desenes	unitats
2	1



Desenes	unitats
2	8

