



Matemática Primero básico

Repasa los números ordinales

**REPASA CON EL PPT,
TRABAJA PÁGINA 32,33,34 DEL TEXTO DEL ESTUDIANTE y
CUADERNO DE ACTIVIDADES, PÁGINA 16 Y 17.**

Clase 2: Los números ordinales



Estos números indican **orden**. Se denominan **números ordinales**.

Practica los números ordinales

Actividad N°1

- Escucha o lee la siguiente situación y responde las preguntas en voz alta.

Observa la siguiente imagen y encierra tu respuesta.



Hice una lista de las actividades que realizaré, ordenadas desde el primer al quinto lugar.

Lista de actividades

- *Ordenar mi pieza*
- *Hacer gimnasia*
- *Hacer mis tareas*
- *Leer un cuento*
- *Ver televisión*

a. ¿Qué actividad realizará  en 2º lugar?

Hacer tareas

Hacer gimnasia

Ordenar la pieza

b. ¿Qué actividad realizará  en **cuarto** lugar?

Hacer tareas

Ver televisión

Leer un cuento

c. ¿En qué lugar  verá televisión?

1º

5º

6º

d. ¿En qué lugar  ordenará su pieza?

Primero

Segundo





Tercero

ACTIVIDADES: NÚMEROS ORDINALES HASTA EL DÉCIMO


1. Los niños van a la fiesta de Margarita. Observe la imagen:



a) Complete según la posición en que se encuentran los niños (de derecha a izquierda):

	Va en primer lugar	Va.....
	Va en..... lugar	Va..... 2°.....
	Va en..... lugar	Va.....
	Va en lugar	Va.....

2. Enumere los pisos del edificio:




Marque con una X una ventana del quinto piso.

Encierre con una línea una ventana del tercer piso.

Dibuje una estrella en el octavo piso.

Pinte una ventana del sexto piso.

3. Observe estas imágenes:



Yo llegué primero



Yo llegué tercero



Yo llegué segundo



Una los niños de la competencia con el podio de acuerdo al orden en que llegaron:

